

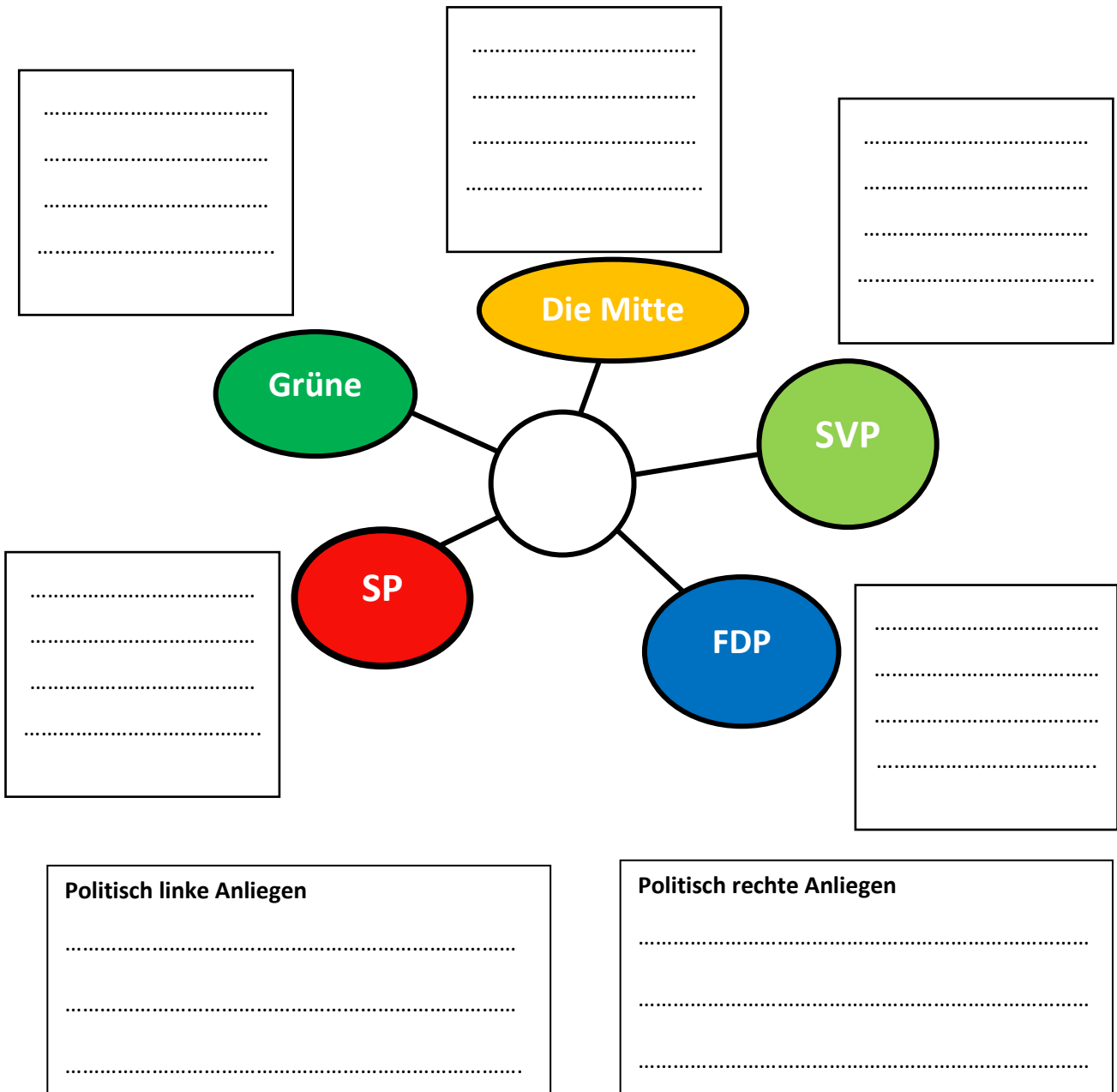


Parteien, Landrätinnen und Landräte in Uri

Wähle ich?


Aufgabe 1: Parteien in Uri – ihre Interessen und ihr Einfluss im Landrat

- a) Halte auf dieser Mindmap stichwortartig fest, für welche Interessen und Werte sich die grössten Parteien der Schweiz einsetzen. Gehe dabei von links nach rechts vor.




b) Welche Aufgabe kommen politischen Parteien zu und wie arbeiten sie als Fraktionen im Landrat?

-
-
-
-



c) Wie sieht die Sitzverteilung der Fraktionen im Landrat von Uri aus? Übertrage die Anteile der Fraktionsstärken auf ein Kreisdiagramm, benenne die Sektoren mit dem korrekten Parteinamen und der Anzahl Sitze im Landrat und beschrifte das Diagramm mit einer passenden Überschrift.
Hinweis: Der Landrat hat insgesamt 64 Sitze

Überschrift:



d) Leite aus dem Diagramm Aussagen zur Sitzverteilung im Landrat Uri ab.
z.B. Die anteilmässig stärkste Fraktion im Landrat von Uri ist die Mitte (CVP).

-
-
-

